

**بعد دراسة ص (22) بالكتاب المدرسي ،، اجب عما يلي:**

**س : قارن بين دوائر العرض وخطوط الطول ، حسب الجدول التالي :-**

خطوط الطول	دوائر العرض	وجه المقارنة
.....	.....	تعريفها
.....	.....	
.....	.....	
.....	.....	العدد
.....	.....	
.....	.....	خط الأساس
.....	.....	
.....	.....	الأهمية
.....	.....	

**بعد دراسة ص (22) بالكتاب المدرسي ،، اجب عما يلي:**

**س : قارن بين دوائر العرض وخطوط الطول ، حسب الجدول التالي :-**

خطوط الطول	دوائر العرض	وجه المقارنة
.....	.....	تعريفها
.....	.....	
.....	.....	
.....	.....	العدد
.....	.....	
.....	.....	خط الأساس
.....	.....	
.....	.....	الأهمية
.....	.....	

بي " علل لما يلي :\* بعد دراسة ف1 ص24 ك.م.

(1) الأهمية الإستراتيجية لموقع الوطن العربي .

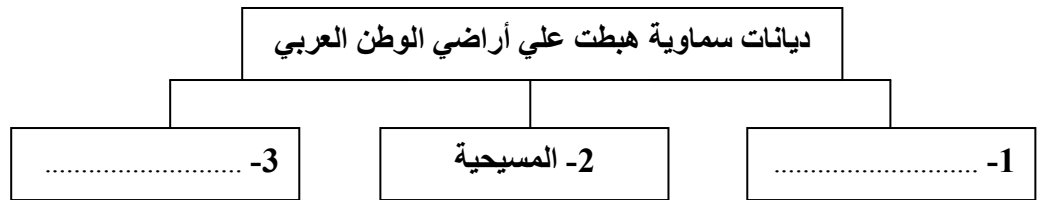
أ- .....

ب- .....

(2) تنافس الدول الاستعمارية للسيطرة علي الوطن العربي منذ القرن 18 م .

\* بعد قراءة ف2 ص24 ك.م عن " الأهمية الاقتصادية للوطن العربي " أكمل الجملة التالية :

- الوطن العربي يعد جسراً يربط بين ثلاث قارات هي آسيا و..... و .....

\* بعد قراءة الفقرة الأخيرة ص24 ك.م عن " الأهمية الحضارية والثقافية " أكمل المخطط التالي :بي " علل لما يلي :\* بعد دراسة ف1 ص24 ك.م.

(1) الأهمية الإستراتيجية لموقع الوطن العربي .

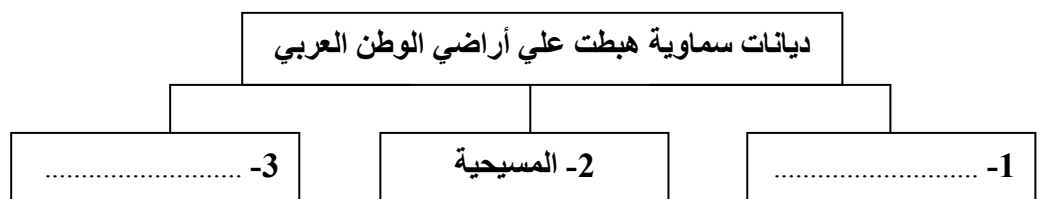
أ- .....

ب- .....

(2) تنافس الدول الاستعمارية للسيطرة علي الوطن العربي منذ القرن 18 م .

\* بعد قراءة ف2 ص24 ك.م عن " الأهمية الاقتصادية للوطن العربي " أكمل الجملة التالية :

- الوطن العربي يعد جسراً يربط بين ثلاث قارات هي آسيا و..... و .....

\* بعد قراءة الفقرة الأخيرة ص24 ك.م عن " الأهمية الحضارية والثقافية " أكمل المخطط التالي :

## بنك الأسئلة

السؤال الأول : أكمل الجمل التالية :

- من أشهر السدود ببلاد اليمن قديماً سد يسمى .....
- يمتد القسم الأكبر من الوطن العربي شمال قارة تسمى .....
- عدد المواد التي تضمنتها شريعة حمورابي ..... مادة .
- عاصمة جمهورية جزر القمر مدينة اسمها .....
- عرفت الكتابة المصرية القديمة باسم .....
- تعرف حشائش الاستنبس في بلاد المغرب العربي باسم .....
- من أهم معابد دلمون قديماً معبد .....
- بلغ عدد سكان دول الوطن العربي حسب إحصاء عام 2006 حوالي ..... مليون نسمة .
- يتألف الوطن العربي من ..... دولة .
- تقترب قارة إفريقيا من قارة أوروبا عند مضيق يسمى .....
- أطلقت دولة الكويت حملة تطوعية لتقليل استهلاك المياه عرفت باسم .....
- المسطح المائي الذي يجاور الوطن العربي من جهة الغرب يسمى .....
- تتصل قارة آسيا بقارة إفريقيا عند منطقة تسمى .....
- توجد هضبة الشطوط في دولة عربية تسمى .....

السؤال الثاني : اختر الإجابة الصحيحة من بين البدائل الموجودة بين الأقواس :

1. بدأت دولة الكويت تعتمد علي تحلية مياه البحر منذ عام :  
( 1943م - 1953م - 1963م - 1973م )
2. انضمت جمهورية جزر القمر لجامعة الدول العربية في عام :  
( 1991م - 1993م - 1995م - 1997م )
3. الملكة بلقيس من أشهر ملوك دولة تسمى :  
( دلمون - معين - سبأ - حمير )

4. تشرف علي قناة السويس دولة تسمى :

( مصر - السعودية - قطر - المغرب )

5. أقدم الشعوب التي سكنت بلاد الرافدين قديماً يطلق عليهم اسم :

( السومريون - الأكاديون - البابليون - الآشوريون )

6. أكثر الأشكال التضاريسية انتشاراً بالوطن العربي :

( الجبال - التلال - الهضاب - السهول )

7. عدد حروف الكتابة المسمارية :

( 500 حرف - 600 حرف - 700 حرف - 800 حرف )

8. توجد سهول نهري دجلة والفرات بدولة عربية تسمى :

( الصومال - سوريا - السودان - العراق )

9. تهب رياح الطوز المحلية علي دولة عربية تسمى :

( الأردن - الكويت - ليبيا - العراق )

10. توجد محطة رأس عبود لتحلية مياه البحر بدولة عربية تسمى :

( الإمارات - ليبيا - الكويت - قطر )

11. من أشجار الغابات المعتدلة :

( السدر - المرو - الأرز - السنط )

**السؤال الثالث : صحح الكلمة الخاطئة التي تحتها خط ، واكتب الإجابة الصحيحة بين القوسين :**

- تعتبر أشجار الماهوجني والأبنوس من أشجار الغابات المعتدلة. ( )
- أولي محطات تحلية مياه البحر بدولة الكويت هي محطة الزور. ( )
- تهب رياح الخماسين علي دولة عربية تسمى الأردن. ( )
- عرف المصريون القدماء بعض المحاصيل الزراعية كالقمح و البن. ( )
- توجد هضبة نجد في دولة عربية تسمى الجزائر. ( )
- حالة الجو في مكان ما خلال فترات زمنية قصيرة مفهوم يعرف باسم المناخ. ( )

- اخترع السومريون نوعاً من الكتابة عرفت باسم الكتابة اللاتينية . ( )
- توجد جبال تبستي في دولة عربية تسمى الجزائر . ( )
- المضيق الذي يصل بين الخليج العربي وخليج عمان هو مضيق باب المندب . ( )
- الخط الذي كانت تكتب به الأبجدية في بلاد اليمن قديماً يسمى خط النسخ . ( )
- عدد دول الوطن العربي في الجناح الأفريقي 12 دولة . ( )
- تقع جمهورية جزر القمر في المحيط الأطلسي . ( )
- أول هرم مدرج يتم بناؤه في تاريخ الحضارة المصرية القديمة هو هرم خوفو . ( )
- أكبر دول الوطن العربي الآسيوية من حيث المساحة دولة تسمى عمان . ( )
- أعلى قمة جبلية في الوطن العربي تسمى جبل الشيخ . ( )

#### السؤال الرابع : بم تفسر ( اذكر السبب ) :

- تسمية العراق قديماً ببلاد الرافدين

- الأهمية الجغرافية لموقع الوطن العربي .

- تعتبر حضارة دلمون مركزاً مهماً للمواصلات البحرية .

- تعتبر تربة السهول الفيضية من أفضل أنواع التربة الخصبة .

- ظهور العديد من الحضارات القديمة بأراضي الوطن العربي .

- اعتماد حياة سكان وسط شبه الجزيرة العربية قديماً علي التنقل والترحال من مكان لآخر .

- ازدهار العديد من الحضارات القديمة في بلاد الرافدين .

- تركز السكان في مناطق السهول الفيضية بالوطن العربي .

• اهتمام المصريون القدماء بتحنيط جثث موتاهم .

• الأماكن القريبة من خط الاستواء تتميز بارتفاع درجة حرارتها طوال أيام السنة .

• قيام الحضارة بمنطقة جنوب غرب شبه الجزيرة العربية .

• اعتماد دولة الكويت بشكل أساسي علي تحلية مياه البحر كمصدر للحصول علي المياه العذبة .

• اختلاف نوع وطول حشائش السافانا من مكان لآخر .

• يعتبر أهل اليمن أسياذ التجارة العربية قديماً .

• الأهمية الدينية للوطن العربي .

• ازدهار الزراعة في بلاد الرافدين .

### السؤال الخامس : ما المقصود بكل من :

(1) الأفلاج :

(2) أوال :

(3) الجبال :

(4) الضغط الجوي :

(5) الحضارة :

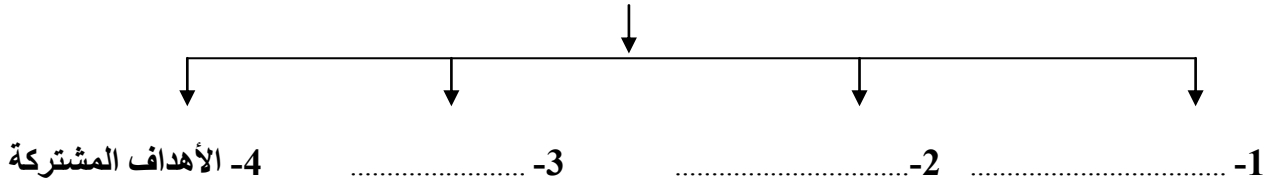
(6) الموقع الفلكي :

(7) النبات الطبيعي :

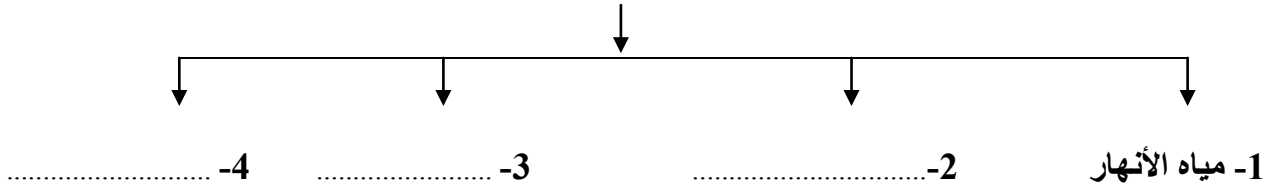
(8) المناخ :

## السؤال السادس: أكمل المخططات السهمية التالية :

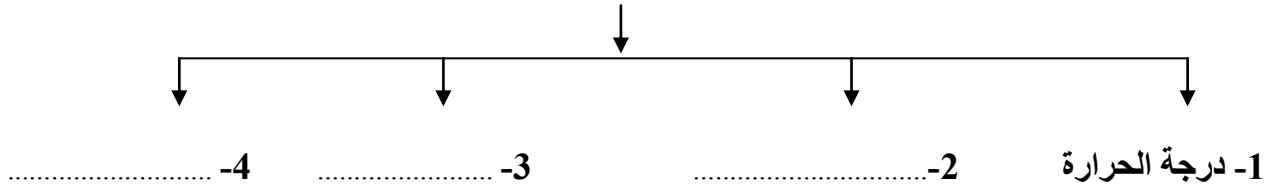
### ( أ ) مقومات الهوية العربية



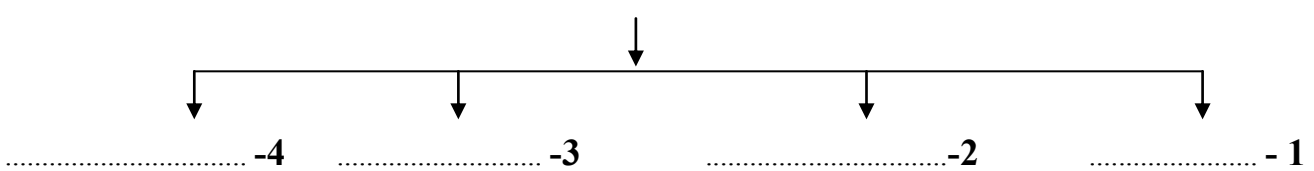
### ( ب ) مصادر المياه في الوطن العربي



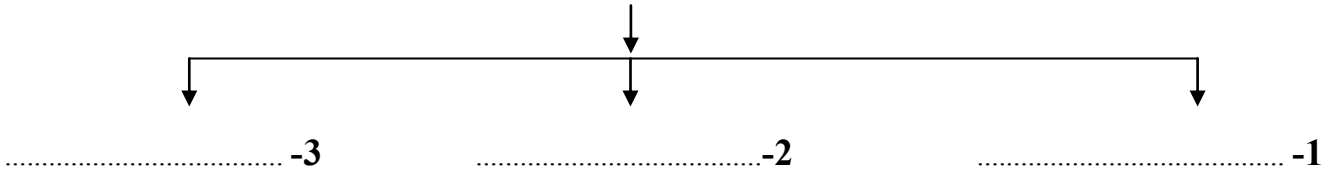
### ( ج ) عناصر المناخ



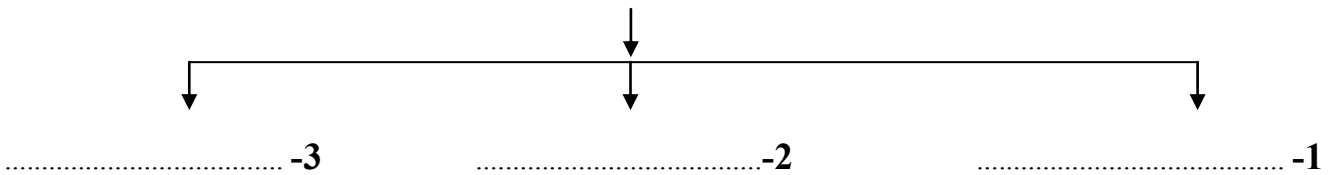
### ( د ) عوامل قيام الحضارة



### ( هـ ) الحياة النباتية في الوطن العربي



### ( و ) معابر انتقال الحضارة الإسلامية لقارة أوروبا



**السؤال السابع: صنف الكلمات التالية حسب الجدول الذي يليها :**

1 - ( عيسي - التوراة - محمد - الإنجيل - موسي - القرآن الكريم )

الديانة	الكتاب	النبي
الإسلام	.....	.....
المسيحية	.....	.....
اليهودية	.....	.....

2- ( جبل مره - جبال تبستي - جبل الزاوية - مرتفعات الأحجار )

اسم الجبال	.....	.....	.....	.....
الدولة التي توجد بها	ليبيا	الجزائر	السودان	العراق

3- ( جبال كردستان - نهر العاصي - نهر جوبا - هضبة نجد )

الظاهرة	.....	.....	.....	.....
الدولة	السعودية	السودان	الصومال	سوريا

**السؤال الثامن: فرق بين كل من:**

( 1 )

القناة	المضيق
.....	.....
.....	.....



( 2 )

البحيرة	النهر
.....	.....
.....	.....

( 3 )

المياه الجوفية	المسطحات المائية
.....	.....
.....	.....

( 4 )

السهول الفيضية	السهول الساحلية
.....	.....
.....	.....

**السؤال التاسع : اكتب اسم المصطلحات التالية بين القوسين :**

- مساحة كبيرة من سطح الأرض تتميز باستوائها وقلّة ارتفاعها . ( )
- موقع الدولة بالنسبة لليابس والماء . ( )
- أرض مرتفعه سطحها مستوي وتمتد علي مساحة كبيرة . ( )
- حشائش طويلة تنمو في المناطق الحارة بالوطن العربي وتربي عليها الماشية ( )

**السؤال العاشر: : أكمل الجداول التالية :**

(1)

اسم الدولة	.....	.....	حمير
موقعها بالنسبة لبلاد اليمن	.....	في الوسط	.....
أهم المدن	قرناو	.....	.....

(2)

اسم الحضارة	.....	.....	الكلدانيون
أهم المدن	.....	.....	أشور
أشهر الملوك	.....	حمورابي	.....

**السؤال الحادي عشر: اكتب نقطتين فيما يلي:**

- صفات الأمطار في الوطن العربي .  
أ- .....  
ب - .....
- وسائل مقاومة النباتات الصحراوية للجفاف .  
أ- .....  
ب - .....
- أشكال المياه الجوفية .  
أ- .....  
ب - .....
- العوامل التي تؤثر في مناخ الوطن العربي .  
أ- .....  
ب - .....
- العوامل التي ساعدت علي قيام الحضارة المصرية القديمة .  
أ- .....  
ب - .....
- العوامل المؤثرة في تنوع النبات الطبيعي في الوطن العربي .  
أ- .....  
ب - .....

**السؤال الثاني عشر : قارن بين كل ( دوائر العرض - خطوط الطول ) حسب الجدول التالي :**

خطوط الطول	دوائر العرض	وجه المقارنة
		التعريف
		العدد
		الخط الرئيسي
		الأهمية

**السؤال الثالث عشر : اقرأ الفقرة التالية ' ثم أجب عن الأسئلة التي تليها:**

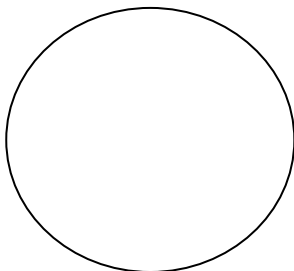
( يضم الوطن العربي 22 دولة عربية تتوزع بين قارتي آسيا وإفريقيا ' ومساحات الجانب الإفريقي من الوطن العربي أكبر من مساحات الجانب الآسيوي ' وتعتبر مساحة الوطن العربي أكبر من قارة أوروبا والولايات المتحدة الأمريكية ' ويشغل نحو 10% من جملة مساحة العالم والتي تبلغ 14 مليون كم2 )

س1 كم عدد دول الوطن العربي ؟

.....

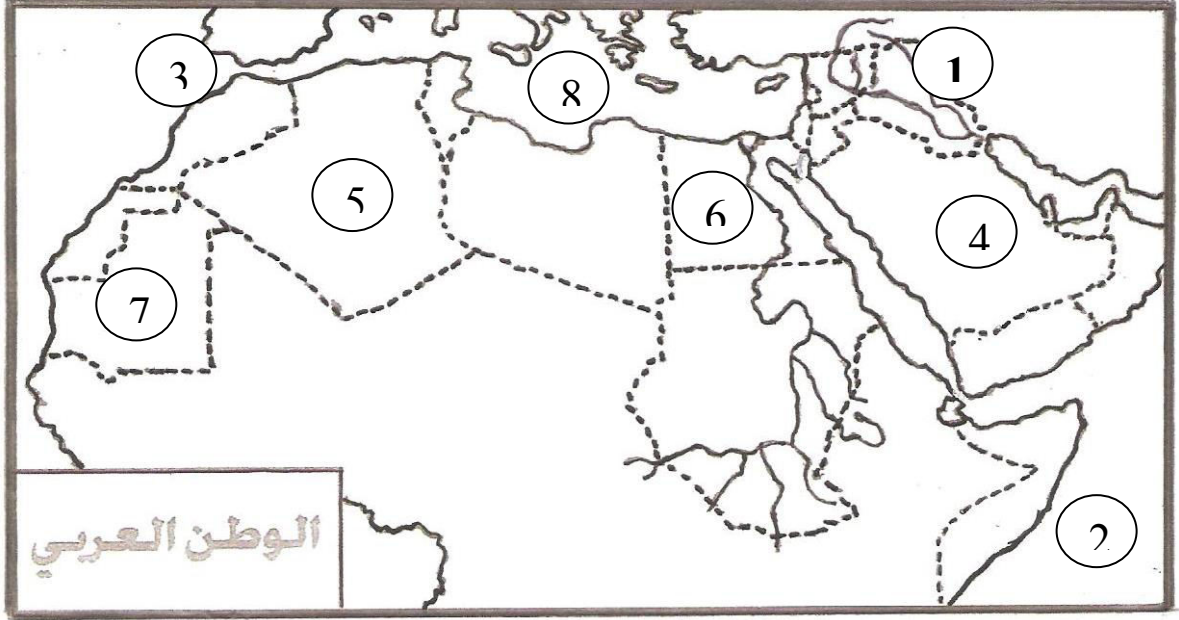
س2 : أكمل الجملة التالية :

• تبلغ مساحة الوطن العربي ..... مليون كم2 .



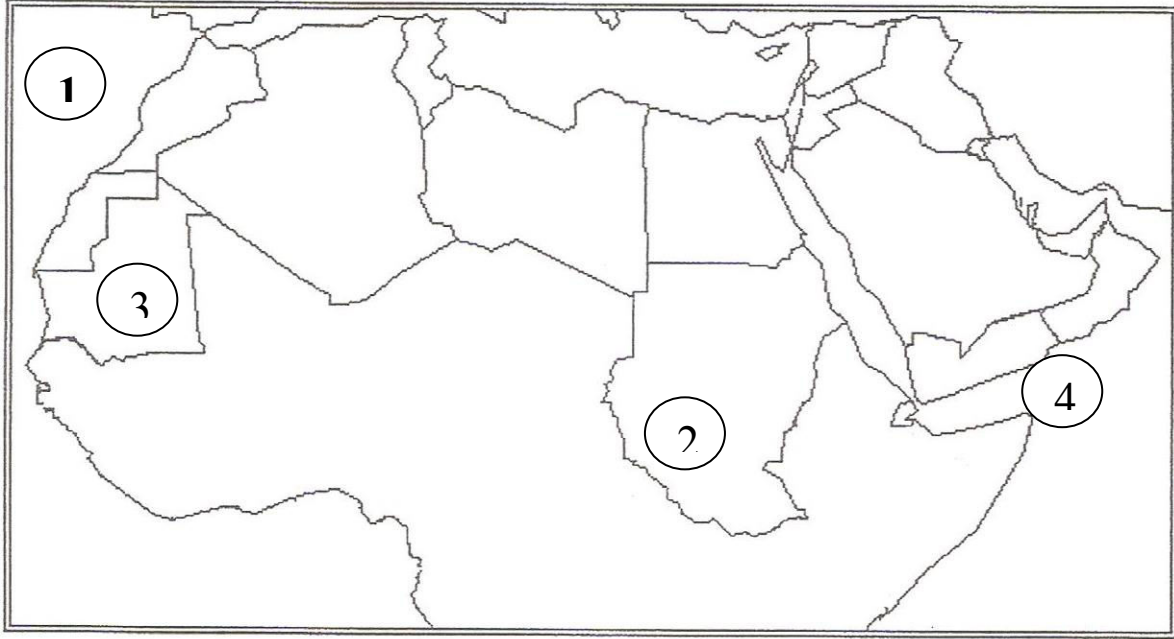
س3 : مثل علي الدائرة التي أمامك نسبة مساحة الوطن العربي من مساحة العالم .

**السؤال الرابع عشر : لاحظ خريطة الوطن العربي الصماء ، ثم نفذ عليها المطلوب منك:**



- نهر النيل يحمل علي الخريطة الرقم .....
- المحيط الهندي يحمل على الخريطة الرقم .....
- نهر دجلة يحمل على الخريطة الرقم .....
- أكبر دول الوطن العربي الآسيوية تحمل على الخريطة الرقم .....
- مضيق جبل طارق يحمل علي الخريطة الرقم .....
- البحر المتوسط يحمل علي الخريطة رقم .....
- موريتانيا تحمل علي الخريطة رقم .....




**السؤال الخامس عشر : لاحظ خريطة الوطن العربي الصماء ، ثم نفذ عليها المطلوب منك:**



**أولاً : أكتب ما تدل عليه الأرقام الموضحة على الخريطة :**

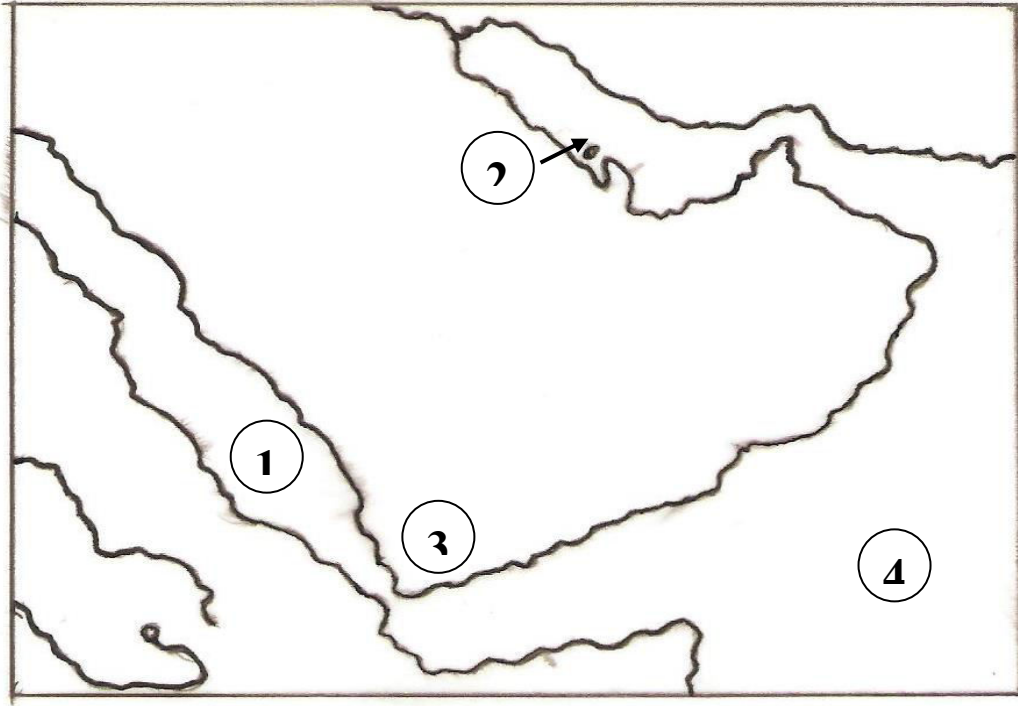
- الرقم ( 1 ) يشير إلى مسطح مائي يسمى .....
- الرقم (2) يشير إلى جبل يسمى .....
- الرقم (3) يشير إلى دولة تسمى .....
- الرقم (4) يشير إلى خليج يسمى .....

**ثانياً نفذ المطلوب منك على الخريطة :**

- ارسم خط الاستواء على الخريطة .
- أكمل رسم حدود الصومال على الخريطة مستخدماً الرمز -----
- حدد موقع مضيق باب المندب على الخريطة وضع عليه الرمز 
- ارسم رياح الهبوب على الخريطة مستخدماً الرمز 
- حدد موقع البحر المتوسط وضع عليه الرمز 
- ارسم خط جرينتش بمكانه الصحيح على الخريطة .

السؤال السادس عشر : لاحظ خريطة شبه الجزيرة العربية الصماء ' ثم أكتب ما تدل عليه الأرقام

الموضحة على الخريطة :



- الرقم ( 1 ) يشير إلى مسطح مائي يسمى .....
- الرقم (2) يشير إلى حضارة تسمى .....
- الرقم (3) يشير إلى دولة ظهرت جنوب بلاد اليمن تسمى .....
- الرقم (4) يشير إلى بحر يسمى .....

**\* مع تمنياتنا لكم بدوام النجاح والتوفيق \***